


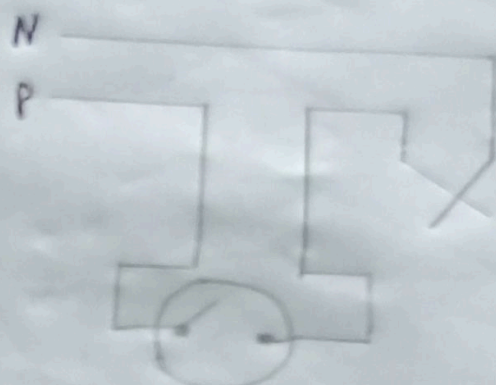
प्रश्नपत्र - 1

4. एक प्रकार का बिन्दु का त्रैजना चित्र व वायरिंग चित्र

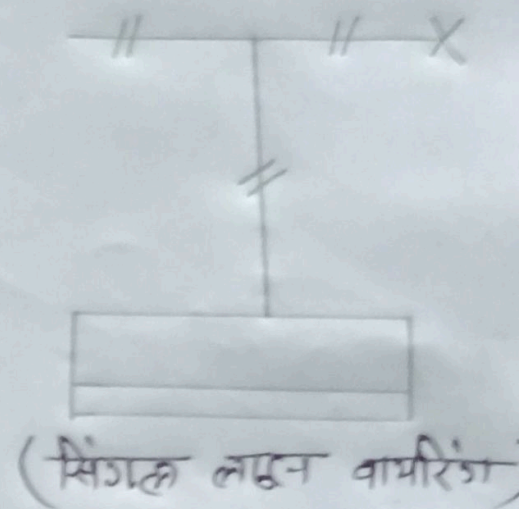
एक स्थान से कंट्रोल लाइट पाइन्ट बल्ब हेतु सीक्रेट व्यवस्था का त्रैजना प्रती लाइन वायरिंग तथा लिगल लाइन वायरिंग में प्रदर्शित करें।



(त्रैजक चित्र)



(मल्ली लइन वायरिंग)



(सिंगल लइन वायरिंग)